

Всероссийская олимпиада школьников 2022-2023 учебный год  
Школьный этап. История, 5-6 класс.  
Время выполнения 45 минут. Максимальное количество баллов – 100.

**Бланк ответов**

<b>Шифр</b>	
-------------	--

**Задание № 1. Выберите правильный ответ. (За каждый правильный ответ – 2 балла, максимальное количество баллов за задание – 10 баллов). Примерное время выполнения – 5 минут.**

85

№ задания	Ответ
1	б +
2	а +
3	в +
4	а -
5	б +

**Задание № 2. Выберите несколько правильных ответов. (За каждый правильный ответ – 2 балла, максимальное количество баллов за задание – 12 баллов). Примерное время выполнения – 4 минуты.**

85

2.1

а +	б +	в -
-----	-----	-----

2.2.

а +	г -	д +
-----	-----	-----

**Задание № 3. Восстановите хронологическую последовательность дат и событий. Запишите ответ в виде последовательности букв в задании. (За каждую правильную последовательность – 4 балла, если верная последовательность восстанавливается путём перестановки любых двух, стоящих рядом, символов – 2 балла, максимальный балл за все задание – 8 баллов). Примерное время выполнения – 5 минут.**

05

3.1

б	в	д	а
---	---	---	---

05

3.2

б	в	а	д
---	---	---	---

**Задание № 4. Установите соответствие. (За каждое правильное соотношение – 2 балла, максимальное количество баллов за задание – 8 баллов). Примерное время выполнения – 3 минуты.**

А	Б	В	Г
1 -	3 -	2 +	5 -

**4.2. Установите соответствие. (За каждое правильное соотношение – 2 балла, максимальное количество баллов за задание – 8 баллов). Примерное время выполнения – 3 минуты.**

25

А	Б	В	Г
1 -	3 -	4 -	2 -

**Задание №5. Прочитайте приведенный ниже текст, в котором пропущен ряд слов. Выберите из предлагаемого списка слова, которые необходимо вставить на места пропусков. Ответ оформите в виде перечня элементов под соответствующими номерами. (По 2 балла за каждый верно заполненный пропуск, всего 20 баллов). Примерное время выполнения – 10 минут.**

85

А	Б	В	Г	Д	Е	Ж	З	И	К
1	8 13	2	4	10	14	9	12	11	8
-	-	+	+	-	-	+	+	-	-

**Задание №6.**

6.1. Перед вами портреты известных людей Красноярского края. Подпишите их фамилию, имя, отчество и благодаря чему стали известны. (За верно названную фамилию, - 2 балла, за верно указанные имя и отчество – по 1 баллу, за указание того, благодаря чему стал известен – 5 баллов, максимальное количество баллов за задание – 18 баллов). Примерное время выполнения – 7 минут.

1	2
Фамилия: <u>Кворостовский</u> 2	Фамилия: <u>Чепецкий</u> 05
Имя: <u>Дмитрий</u> 1	Имя: <u>Эдуард</u>
Отчество: <u>?</u>	Отчество: <u>?</u>
Благодаря чему стал известен: <u>Он был великим певцом</u> 55	Благодаря чему стал известен: <u>Создал мюзиклы такие как: Звездашка Троя из Трестоквашино</u>

85

6.2. Заполните следующую таблицу. Для этого вам необходимо соотнести номер иллюстрации и страну; определить термин, изображенный на иллюстрации и написать его определение. (За каждый правильно указанный № иллюстрации и названный термин – 1 балл, за верно написанное определение термина – 2 балла; максимальное количество баллов за задание – 16 баллов). Примерное время выполнения – 8 минут.

Страна	<u>Рим</u> 15	<u>Египет</u> 15	<u>Англия</u>	<u>Китай</u> 15	<u>Греция</u> 15	<u>Индия</u> 15
№ иллюстрации	<u>1</u>	<u>6</u>	<u>2</u>	<u>3</u>	<u>4</u>	<u>5</u>
Термин	<u>Битва</u>	<u>гробница</u>	<u>Этапу</u>	<u>Сооружение</u>	<u>сооруж.</u>	<u>Статуя</u>
Определение	<u>Колонде</u>	<u>пирамида</u>	<u>таблица</u>	<u>Великая Китайская стена.</u> 15	<u>храм</u>	<u>Буддизм</u>

75

Таблица для внесения баллов участника

Номер задания	1	2	3	4	5	6	Сумма баллов	Подписи членов жюри
Баллы	8	8	0	2	5	13	39	

Всероссийская олимпиада школьников 2022-2023 учебный год  
Школьный этап. История, 5-6 класс.  
Время выполнения 45 минут. Максимальное количество баллов – 100.

**Бланк ответов**

<b>Шифр</b>	
-------------	--

**Задание № 1. Выберите правильный ответ. (За каждый правильный ответ – 2 балла, максимальное количество баллов за задание – 10 баллов). Примерное время выполнения – 5 минут.**

85

№ задания	Ответ
1	Б +
2	А +
3	В +
4	В -
5	Б +

**Задание № 2. Выберите несколько правильных ответов. (За каждый правильный ответ – 2 балла, максимальное количество баллов за задание – 12 баллов). Примерное время выполнения – 4 минуты.**

85

2.1

Е -	А +	В +	
-----	-----	-----	--

2.2.

Е -	А +	В +	
-----	-----	-----	--

**Задание № 3. Восстановите хронологическую последовательность дат и событий. Запишите ответ в виде последовательности букв в задании. (За каждую правильную последовательность – 4 балла, если верная последовательность восстанавливается путём перестановки любых двух, стоящих рядом, символов – 2 балла, максимальный балл за все задание – 8 баллов). Примерное время выполнения – 5 минут.**

20  
25

3.1

Б +	Г +	В	А
-----	-----	---	---

3.2

В	Г	Б +	А +
---	---	-----	-----

**Задание № 4. Установите соответствие. (За каждое правильное соотношение – 2 балла, максимальное количество баллов за задание – 8 баллов). Примерное время выполнения – 3 минуты.**

А	Б	В	Г
4 -	3 -	1 -	2 -

**4.2. Установите соответствие. (За каждое правильное соотношение – 2 балла, максимальное количество баллов за задание – 8 баллов). Примерное время выполнения – 3 минуты.**

45

А	Б	В	Г
2 +	2 -	5 -	3 +

**Задание №5. Прочитайте приведенный ниже текст, в котором пропущен ряд слов. Выберите из предлагаемого списка слова, которые необходимо вставить на места пропусков. Ответ оформите в виде перечня элементов под соответствующими номерами. (По 2 балла за каждый верно заполненный пропуск, всего 20 баллов). Примерное время выполнения – 10 минут.**

120

А	Б	В	Г	Д	Е	Ж	З	И	К
5	8	2	4	7	13	9	10	1	11
-	-	+	+	-	+	+	-	+	+

**Задание №6.**

**6.1. Перед вами портреты известных людей Красноярского края. Подпишите их фамилию, имя, отчество и благодаря чему стали известны. (За верно названную фамилию, - 2 балла, за верно указанные имя и отчество – по 1 баллу, за указание того, благодаря чему стал известен – 5 баллов, максимальное количество баллов за задание – 18 баллов). Примерное время выполнения – 7 минут.**

1	2
Фамилия: _____ Имя: _____ Отчество: _____	Фамилия: _____ Имя: _____ Отчество: _____
Благодаря чему стал известен: Актёр	Благодаря чему стал известен: Режисёр

**6.2. Заполните следующую таблицу. Для этого вам необходимо соотнести номер иллюстрации и страну; определить термин, изображенный на иллюстрации и написать его определение. (За каждый правильно указанный № иллюстрации и названный термин – 1 балл, за верно написанное определение термина – 2 балла; максимальное количество баллов за задание – 16 баллов). Примерное время выполнения – 8 минут.**

Страна	Китай 10	Египет 10	Рим 10		
№ иллюстрации	№3	№6	№1		
Термин	Ваша Китайская стена 10	Гроб Фараона 10	Олимпийские игры		
Определение	Самая длинная стена в мире. 20	Гроб, где закрывают и хоронят в пирамидах днасть. 20	Соревнование в спорте		

Таблица для внесения баллов участника

Номер задания	1	2	3	4	5	6	Сумма баллов	Подписи членов жюри
Баллы	8	8	4	4	12	9	45	

Всероссийская олимпиада школьников 2022-2023 учебный год  
Школьный этап. История, 5-6 класс.  
Время выполнения 45 минут. Максимальное количество баллов – 100.

Бланк ответов

Шифр

Задание № 1. Выберите правильный ответ. (За каждый правильный ответ – 2 балла, максимальное количество баллов за задание – 10 баллов). Примерное время выполнения – 5 минут.

45

№ задания	Ответ
1	Б) история +
2	Б) -
3	Б) -
4	А) -
5	Б) +

Задание № 2. Выберите несколько правильных ответов. (За каждый правильный ответ – 2 балла, максимальное количество баллов за задание – 12 баллов). Примерное время выполнения – 4 минуты.

45

2.1

В	+	<del>Б</del>	
---	---	--------------	--

2.2

А	А	+	Е	-	
---	---	---	---	---	--

Задание № 3. Восстановите хронологическую последовательность дат и событий. Запишите ответ в виде последовательности букв в задании. (За каждую правильную последовательность – 4 балла, если верная последовательность восстанавливается путём перестановки любых двух, стоящих рядом, символов – 2 балла, максимальный балл за все задание – 8 баллов). Примерное время выполнения – 5 минут.

65

3.1

Д	А	В	Б
---	---	---	---

45

3.2

Д	В	Б	А
---	---	---	---

Задание № 4. Установите соответствия. (За каждое правильное соотношение – 2 балла, максимальное количество баллов за задание – 8 баллов). Примерное время выполнения – 3 минуты.

А	4	-	Б	5	-	В	2	+	Г	1	-
---	---	---	---	---	---	---	---	---	---	---	---

25

4.2. Установите соответствия. (За каждое правильное соотношение – 2 балла, максимальное количество баллов за задание – 8 баллов). Примерное время выполнения – 3 минуты.

А	1	-	Б	3	-	В	4	-	Г	2	-
---	---	---	---	---	---	---	---	---	---	---	---

Задание №5. Прочитайте приведенный ниже текст, в котором пропущен ряд слов. Выберите из предлагаемого списка слова, которые необходимо вставить на места пропусков. Ответ оформите в виде перечня элементов под соответствующими номерами. (По 2 балла за каждый верно заполненный пропуск, всего 20 баллов). Примерное время выполнения – 10 минут.

105

А	Б	В	Г	Д	Е	Ж	З	И	К
11	12	2	10	13	9	5	1	7	
-	-	+	+	-	+	+	-	+	-

**Задание №6.**

6.1. Перед вами портреты известных людей Красноярского края. Подпишите их фамилию, имя, отчество и благодаря чему стали известны. (За верно названную фамилию, - 2 балла, за верно указанные имя и отчество – по 1 баллу, за указание того, благодаря чему стал известен – 5 баллов, максимальное количество баллов за задание – 18 баллов). *Примерное время выполнения – 7 минут.*

1	2
Фамилия: _____	Фамилия: _____
Имя: _____	Имя: _____
Отчество: _____	Отчество: _____
Благодаря чему стал известен:	Благодаря чему стал известен:

6.2. Заполните следующую таблицу. Для этого вам необходимо соотнести номер иллюстрации и страну; определить термин, изображенный на иллюстрации и написать его определение. (За каждый правильно указанный № иллюстрации и названный термин – 1 балл, за верно написанное определение термина – 2 балла; максимальное количество баллов за задание – 16 баллов). *Примерное время выполнения – 8 минут.*

Страна	Италия	Греция	Китай	Япония	Индия	США
№ иллюстрации	1	2	3	4	5	6
Термин	Кремль	Фешизм	Великая стена		Иероглифы	Тас
Определение	Государственный комплекс зданий в Москве					

Таблица для внесения баллов участника

Номер задания	1	2	3	4	5	6	Сумма баллов	Подписи членов жюри
Баллы	4	4	4	2	10	5	39	

Всероссийская олимпиада школьников 2022-2023 учебный год

Школьный этап. История, 9 класс

Время выполнения 90 минут. Максимальное количество баллов – 100

Бланк ответов

265

**Задание № 1.** Выберите один правильный ответ. За каждый правильный ответ – 1 балл, максимальное количество баллов за задание – 5).

25

1.1	1.2	1.3	1.4	1.5
3 +	2 * +	1 -	3 -	2 -

**Задание № 2.** Выберите несколько правильных ответов. За каждый правильный ответ – 1 балл, максимальное количество баллов за задание – 15.

98

- 2.1 + 4 + 2 + 1, 3
- 2.2 + 6 + 5 + 1
- 2.3 + 2 + 6 + 1
- 2.4 + 4 + 3
- 2.5 + 5 + 3 +

**Задание № 3.** Восстановите хронологическую последовательность дат и событий. Запишите ответ в виде последовательности номеров в задании. За каждую правильную последовательность – 6 баллов, если верная последовательность восстанавливается путём перестановки любых двух, стоящих рядом, символов – 4 балла. Максимальный балл за все задание – 12.

3.1

1	2	3	4	5	6
A -	B -	E -	D -	G -	F -

3.2

05

1	2	3	4	5	6
B -	A -	F -	G -	D -	E +

**Задание № 4.** Установите соответствие

4.1 Максимальное количество баллов за каждую верную позицию в задании – 1 балл. Максимальное количество баллов за все правильные позиции ответов – 10.

05

А	Б	В	Г	Д	Е	Ж	З	И	К
4 -	2 -	10 -	5 -	3 -	7 -	11 -	8 -	1 -	6 -

4.2 По 1 баллу за каждый правильный ответ (имя правителя). По 3 балла за правильное определение событий, 1 балл в случае 1 ошибки, 2 ошибки – 0 баллов. Максимальное количество баллов - 12 баллов.

25

Император	Кемп I +		
Событие	2, 6, 7 +	1, 3, 4	5, 8, 9.

4.3. По 1 баллу за каждое верное соответствие. Максимальный балл - 5.

05

А	Б	В	Г	Д
3 -	5 -	1 -	2 -	6 -

Светлана Кириллова. 9 П

**Задание № 5.** Заполните пробелы в тексте, используя предложенные варианты. Ответ оформите в виде перечня элементов под соответствующими номерами. За каждый правильно заполненный пробел – 1 балл, максимальное количество баллов за задание – 10.

1	Нижний. Малмыжский +
2	Сражение +
3	Ведомости +
4	Января -
5	Сотворения мира +
6	Кунсткамера +
7	1825 +
8	1812 +
9	Дальний. -
10	Летний двор. -

**Задание № 6. Работа с иллюстративными источниками и картой**

6.1 2 балла за верную хронологию. Если хронология установлена неверно 0 баллов. По 1 баллу за каждое верно названное событие. Всего 4 баллов. 2 балла за верно названного художника. Всего за задание 8 баллов

№ изображения	Историческое событие
1	Голод.

Художник: \_\_\_\_\_

6.2 Внимательно рассмотрите карту, выполните задания. По одному баллу за каждый верный ответ. Всего 6 баллов

А	Москва.
Б	
В	2
Г	
Д	
Е	

**Задание № 7. Анализ документа. Всего 17 баллов.**

А) Напишите, в каком году началась осада Смоленска 1609 1

Б) Напишите название населённого пункта, в котором находилась ставка «царя Димитрия». Тушино. 1

В) Напишите, в каком году свергли «богом избранного царя» 1195. 0

Г) Назовите имена обозначенных в тексте порядковыми номерами участников событий

\_\_\_\_\_





525

Всероссийская олимпиада школьников 2022-2023 учебный год  
Школьный этап. Обществознание, 8 класс, задания  
Время выполнения 60 мин. Максимальное кол-во баллов – 100

**Задание 1. Выберите все правильные ответы. Ответ занесите в таблицу.**  
Максимальное количество баллов - 8.

1.1. Как называют правила принятые в обществе?

- а) социальные стандарты б) социальные права в) социальные законы  социальные нормы

1.2. Кто выполняет контроль за соблюдением прав ребенка в России?

- а) Уполномоченный по правам ребенка б) Директор школы
- в) Министр образования и науки РФ г) Президент РФ

1.3. На сегодняшний день наиболее распространенной является классификация, согласно которой все политические режимы делятся на:

- а) тоталитарные б) авторитарные в) демократические  г) все варианты верны

1.4. Согласно современным представлениям человек является существом:

- а) биологическим ; б) биосоциальным ; в) социальным; г) духовным.

88

1.1	1.2	1.3	1.4
г	а	г	б

**Задание 2. Укажите, какой из элементов является лишним. Ответ поясните. По 2 балла за каждое правильное понятие и 2 балла за пояснение, максимум – 16 баллов**

1. Парламент, налоги, территория, публичная власть

парламент - это орган власти, а остальные - признаки государства

2. Постановление Правительства России, закон Республики Татарстан (Татарстан), указ Президента России, федеральный закон.

Этот элемент не является законом или указом

3. Область, край, город федерального значения, федеральный округ, автономный округ

Город федерального значения - это одна единица, а остальные не субъекты содержат несколько единиц

4. Труд, земля, налоги, предпринимательские способности, капитал

труд, земля, налоги, капитал - это виды доходов

88

**Задание 3. «Да» или «нет»? Если вы согласны с тем, что данное утверждение верно, напишите «да», если считаете, что утверждение ошибочно, напишите «нет». Внесите свои ответы в таблицу. По 2 балла за каждую верную позицию, всего — 10 баллов.**

- 1. Суверенитет государства подразделяется на внешний и внутренний.
- 2. Выдача одним государством негражданина этого государства другому государству для осуществления правосудия называется экстрадицией.
- 3. В Российской Федерации законодательно запрещён полигамный брак.
- 4. Основное условие существования социальной группы – единство географического пространства, на котором проживают её члены.
- 5. В России установлена прогрессивная шкала ставки налога на доходы физических лиц.

88

1	2	3	4	5
Да +	Нет -	Да +	Нет +	Да -

**Задание 4. Соотнесите признаки, присущие обществу, с той степенью его развития, которой они соответствуют. 10 баллов**

Признак	Ступени развития общества
А) классовая социальная стратификация	1) традиционное
Б) преобладание сельскохозяйственного производства	2) индустриальное
В) основной фактор производства – научно-технический прогресс	3) информационное
Г) преобладание сферы услуг в экономике	
Д) завершение промышленного переворота	

Ответы

А	Б	В	Г	Д
1 —	2 —	3 +	2 —	2 +

**Задание 5. Прочитайте высказывания известных людей. В каждом случае несколько высказываний посвящены одному обществоведческому понятию. В разных высказываниях может меняться форма слова, обозначающего это понятие, или часть речи. Определите понятие и заполните пропуски. По 2 балла за каждую верную позицию. Всего 8 баллов.**

- 1) Время – это \_\_\_\_\_ . (Б. Франклин)  
 \_\_\_\_\_ – хорошие слуги, но плохие хозяева. (Ф. Бэкон)
- 2) Правитель — \_\_\_\_\_ – это я. (Людовик XIV)  
Управление — \_\_\_\_\_ есть сочетание права и власти. (Б. Вышеславцев)

**Задание 6. Рассмотрите предложенные иллюстрации. Классифицируйте их, разделив на три группы. Дайте пояснения вашей классификации. Максимальный балл за задание – 12 баллов**

<p>1.</p> 	<p>2.</p> 
<p>3.</p> 	<p>4.</p> 

# ПРОХОДИМСЯ ПО ПОВЕРХНОСТЯМ

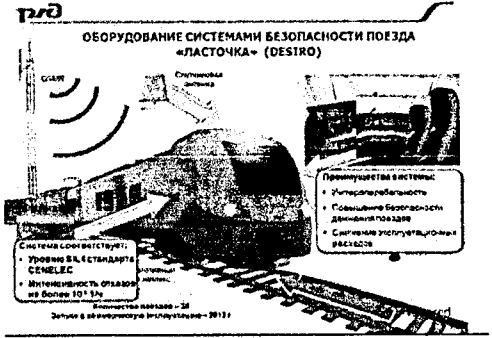


Каждые полтора часа мы деинфицируем турникеты, терминалы и поручни

Гранспорттрэвалкерус влэвни\_эго\_корони

5

6



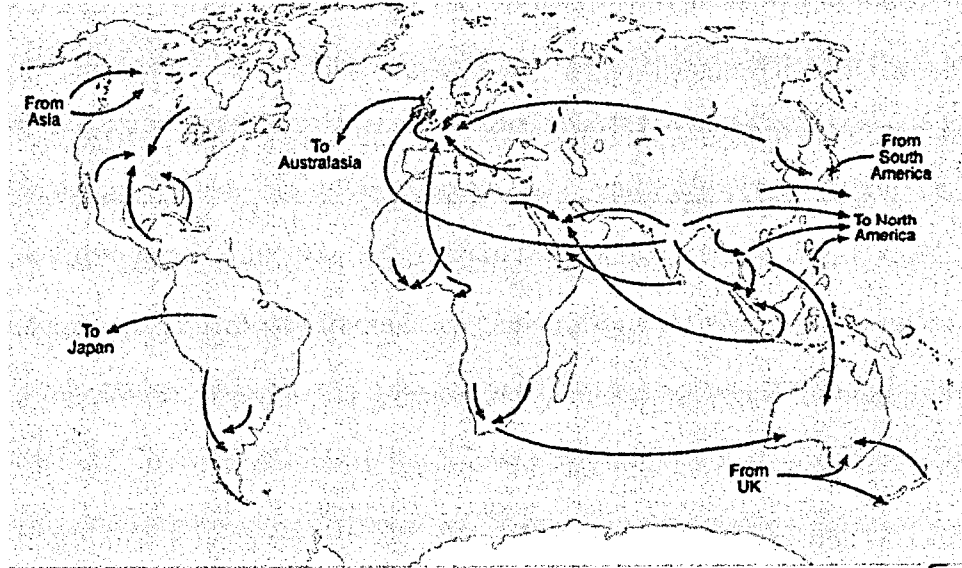
Группа 1	Группа 2	Группа 3
1, 4	5, 6	2, 4
2	2	1
Обоснование эти шлю страши на правлен на	Обоснование шлю страши на правлен на	Обоснование это риклаша

95

2

то, чтобы добить транспорт определенный продукт

Задание 7. На карте изображен социальный процесс, характерный для современного мира. Назовите его, перечислите причины (3-4), которые способствуют его развитию в современном мире. 11 баллов

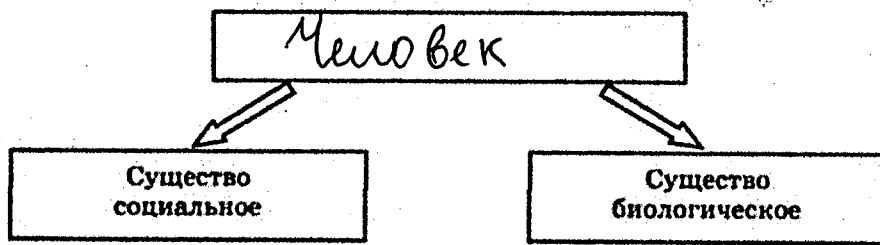


65

Ответ: Это процесс - перемещение людей из одного государства / материка / части света в другое

1) Непогодешуйб климат 2) Не наше кадыти больше возможно стей. 3) Нолучить образование и работу в другой стране. 4) Недовольство политикой или правительством.

Задание 8. Впишите недостающее слово в схему. Общее количество баллов - 5.



**Задание 9. Решите логическую задачу. Всего 10 баллов.**

Алиса, Лев и Единорог

Однажды Алиса повстречала Льва и Единорога, отдыхавших под деревом. Странные это были существа. Лев лгал по понедельникам, вторникам и средам и говорил правду во все остальные дни недели. Единорог же вел себя иначе: он лгал по четвергам, пятницам и субботам и говорил правду во все остальные дни недели. Они высказали следующие утверждения:

Лев - Вчера был один из дней, когда я лгу.

Единорог - Вчера был один из дней, когда я тоже лгу.

Из этих двух высказываний Алиса сумела вывести, какой день недели был вчера. Что это был за день? Ответ поясните. *Этот день - среда*

**10. Ознакомьтесь с инфографикой и приведёнными на основании полученной из неё информации утверждениями. Обведите правильные утверждения. Максимальный балл за задание – 10.**

Выберите все верные утверждения, которые можно сделать на основании приведённых данных.

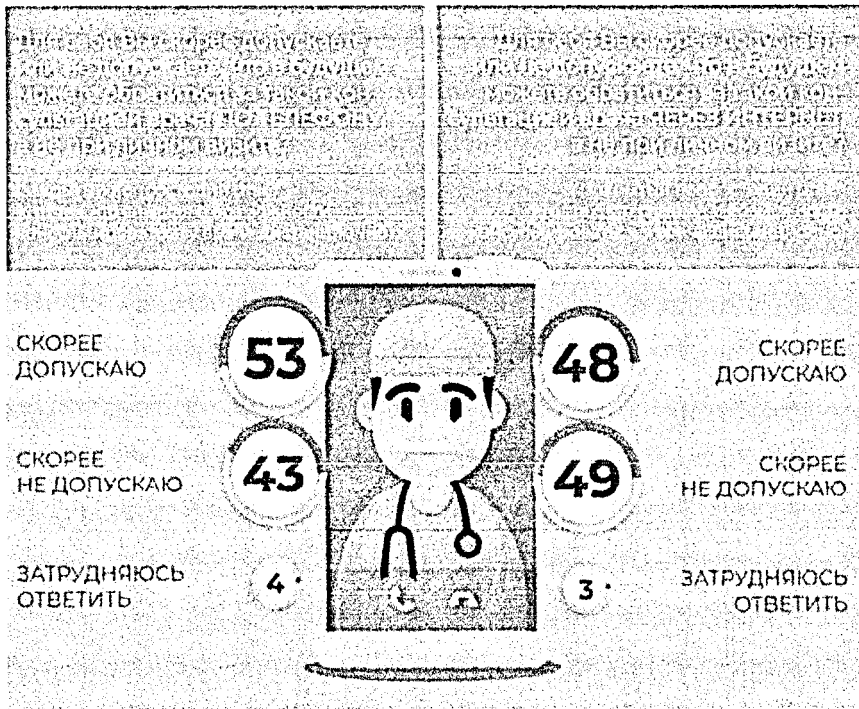

- 105
- А) Для россиян нет разницы между консультацией врача по телефону и через интернет.
  - Б) 8 % опрошенных пользовались услугами телемедицины.
  - + В) Телефон – более популярный канал телемедицины, чем Интернет.
  - Г) Около половины россиян готовы обратиться за медицинской помощью через интернет.
  - + Д) Причиной принципиального отказа от услуг телемедицины в трети случаев выступает убежденность в необходимости непосредственного осмотра пациента врачом.
  - + Е) Четверть россиян, готовых к получению телемедицинских услуг, склонны обратиться за дистанционной консультацией в случае, если заметили у себя симптомы заболевания.
  - + Ж) Доверие россиян, готовых к телемедицине, к телефонным консультациям несколько выше, чем к консультациям через интернет.
  - З) В эпоху пандемии доверие к телемедицине повысилось.
  - + И) Подавляющее большинство россиян, знающих о существовании телемедицины, имеют сформированную позицию по вопросу приемлемости телемедицинских услуг.
  - К) Россияне в большей степени склонны доверять телемедицинским консультациям, которые оказывают государственные учреждения здравоохранения, а не частные.

**Задание 9. Ответ: этот день среда. Объяснение:**

Единорог сказал, что вчера был день когда он тоже лгал. Это лось, ведь Лев и Единорог лгут по разным дням, совпадений нет. Сегодняшний день это чт, пт, шш сб. - в эти дни не лгут единорог. Лев сказал, что вчера был день, когда он не лгал. Лев сказал правду, значит это то же, что сегодняшний день чт, пт, сб. Если Лев вчера лгал, значит это была либо пн, вторник ср. Как как →

# ТЕЛЕМЕДИЦИНА В РОССИИ: СЕГОДНЯ И ЗАВТРА

БОЛЕЕ ПОЛОВИНЫ РОССИЯНИ ИНФОРМИРОВАНЫ О ТЕЛЕМЕДИЦИННЫХ ВОЗМОЖНОСТЯХ ПОЛУЧИТЬ КОНСУЛЬТАЦИЮ ВРАЧА ПО ТЕЛЕФОНУ ИЛИ ПО ИНТЕРНЕТУ (ПО 62% СООТВЕТСТВЕННО)



Задача 9 (продолжение) Сегодня Лев сказал правду, а вчера солгал, значит сегодняшний день четверг (в четверг Лев говорит правду) а вчерашний - среда (в среду он говорит правду)


В какой ситуации вы бы скорее обратились за консультацией к врачу дистанционно (по телефону или через интернет), а не при личном визите?



- ПРИ ПРИЗНАКАХ БОЛЕЗНИ  
25 ██████████
- ЕСЛИ СОВСЕМ ПЛОХО  
10 ███
- ЕСЛИ НИЧЕГО СЕРЬЕЗНОГО  
10 ███

В какой ситуации вы бы скорее обратились за консультацией к врачу лично, а не дистанционно (по телефону или через интернет)?

- ЛИЧНЫЙ ОСМОТР ОБЯЗАТЕЛЕН  
33 ██████████
- СОМНЕНИЕ В КАЧЕСТВЕ  
13 ████
- НЕТ НЕОБХОДИМОСТИ  
10 ███



Е8

525

Всероссийская олимпиада школьников 2022-2023 учебный год  
Школьный этап. Обществознание, 8 класс, задания  
Время выполнения 60 мин. Максимальное кол-во баллов – 100

**Задание 1. Выберите все правильные ответы. Ответ занесите в таблицу.**  
Максимальное количество баллов - 8.

1.1. Как называют правила принятые в обществе?

а) социальные стандарты б) социальные права в) социальные законы  социальные нормы

1.2. Кто выполняет контроль за соблюдением прав ребенка в России?

а) Уполномоченный по правам ребенка б) Директор школы  
в) Министр образования и науки РФ г) Президент РФ

1.3. На сегодняшний день наиболее распространенной является классификация, согласно которой все политические режимы делятся на:

а) тоталитарные б) авторитарные в) демократические  г) все варианты верны

1.4. Согласно современным представлениям человек является существом:

а) биологическим  б) биосоциальным ; в) социальным; г) духовным.

85

1.1	1.2	1.3	1.4
г	а	г	б

**Задание 2. Укажите, какой из элементов является лишним. Ответ поясните. По 2 балла за каждое правильное понятие и 2 балла за пояснение, максимум – 16 баллов**

1. Парламент, налоги, территория, публичная власть

территория лишнее, тк остальные связаны с экономикой и политикой.

2. Постановление Правительства России, закон Республики Татарстан (Татарстан), указ Президента России, федеральный закон.

0

3. Область, край, город федерального значения, федеральный округ, автономный округ

0

4. Труд, земля, налоги, предпринимательские способности, капитал

это относится к возможностям человека.

0

**Задание 3. «Да» или «нет»? Если вы согласны с тем, что данное утверждение верно, напишите «да», если считаете, что утверждение ошибочно, напишите «нет». Внесите свои ответы в таблицу. По 2 балла за каждую верную позицию, всего — 10 баллов.**

1. Суверенитет государства подразделяется на внешний и внутренний.

2. Выдача одним государством негражданина этого государства другому государству для осуществления правосудия называется экстрадицией.

3. В Российской Федерации законодательно запрещён полигамный брак.

4. Основное условие существования социальной группы – единство географического пространства, на котором проживают её члены.

5. В России установлена прогрессивная шкала ставки налога на доходы физических лиц.

85

1	2	3	4	5
да +	нет да +	нет <del>нет</del> +	нет +	да —

**Задание 4. Соотнесите признаки, присущие обществу, с той степенью его развития, которой они соответствуют. 10 баллов**



Признак	Ступени развития общества
А) классовая социальная стратификация	1) традиционное
Б) преобладание сельскохозяйственного производства	2) индустриальное
В) основной фактор производства – научно-технический прогресс	3) информационное
Г) преобладание сферы услуг в экономике	
Д) завершение промышленного переворота	

Ответы

А	Б	В	Г	Д
1 —	2 —	3 +	<del>3</del> 3 + 2 +	2 +

**Задание 5.** Прочитайте высказывания известных людей. В каждом случае несколько высказываний посвящены одному обществоведческому понятию. В разных высказываниях может меняться форма слова, обозначающего это понятие, или часть речи. Определите понятие и заполните пропуски. По 2 балла за каждую верную позицию. Всего 8 баллов.

- 1) Время – это \_\_\_\_\_ . (Б. Франклин)  
 2) цюди – хорошие слуги, но плохие хозяева. (Ф. Бэкон)  
личность – это я. (Людовик XIV)  
в правительстве есть сочетание права и власти. (Б. Вышеславцев)

**Задание 6.** Рассмотрите предложенные иллюстрации. Классифицируйте их, разделив на три группы. Дайте пояснения вашей классификации. Максимальный балл за задание – 12 баллов

<p>1.</p> 	<p>2.</p> 
<p>3.</p> 	<p>4.</p> 

**ПРОХОДИМСЯ ПО ПОВЕРХНОСТЯМ** 5



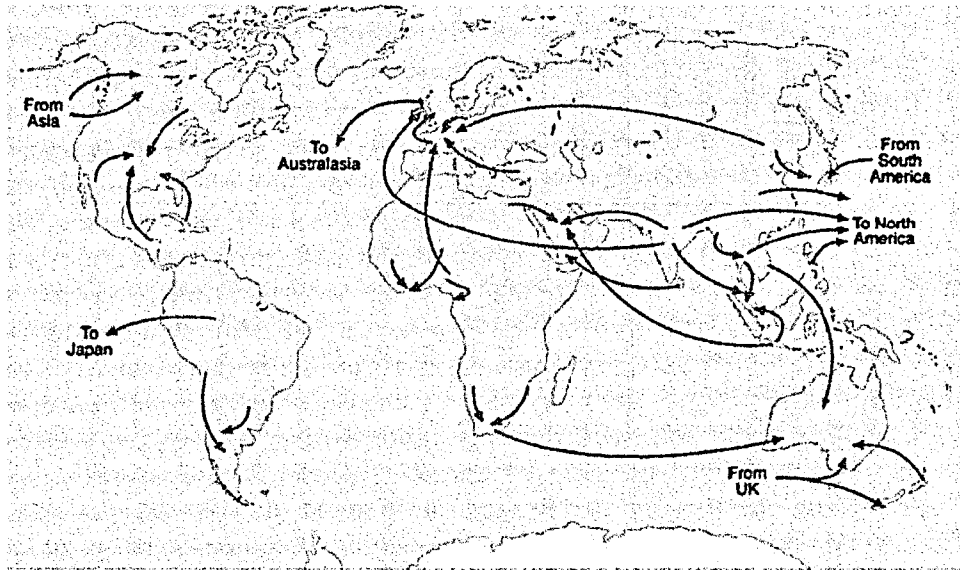
Виртуальное путешествие в мир, его города

6



Группа 1	Группа 2	Группа 3
1, 4. 2	3, 6. 2	2, 3. 2
Обоснование Всё на обеих иллюстрациях иллюстрирует возможность общения в виртуальном мире.	Обоснование на обеих иллюстрациях иллюстрирует возможность общения в виртуальном мире, которое важно для безопасности.	Обоснование Предоставляют и подают информацию о безопасности.

Задание 7. На карте изображен социальный процесс, характерный для современного мира. Назовите его, перечислите причины (3-4), которые способствуют его развитию в современном мире. 11 баллов



Ответ: миграция людей из разных точек планеты.

1. в современном мире теперь не кажется невозможным иметь своё место жительства просто из светлого будущего.
2. - работа, которая может требовать смены места жительства.
3. Проблемы определённого срока в плане жизни людей. Военной или другой причиной побуждают людей и переезда, доб...

Задание 8. Впишите недостающее слово в схему. Общее количество баллов - 5.

быть в безопасности.

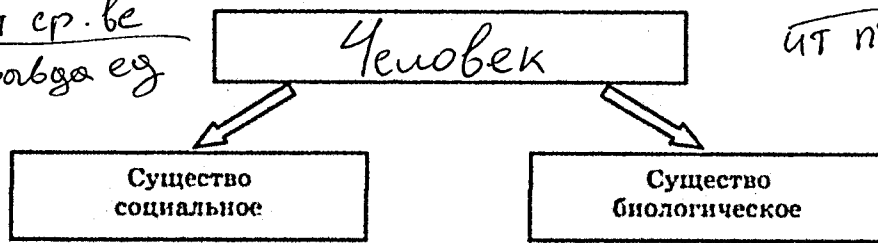
чт пт суб вс  
правда лбвд

пн вс ср.  
ложь лбвд

пн вс ср. вс  
правда ед

чт пт суб  
ложь ед

58



**Задание 9. Решите логическую задачу. Всего 10 баллов.**

ложь лбвд

Алиса, Лев и Единорог

Однажды Алиса повстречала Льва и Единорога, отдыхавших под деревом. Странные это были существа. Лев лгал по понедельникам, вторникам и средам и говорил правду во все остальные дни недели. Единорог же вел себя иначе: он лгал по четвергам, пятницам и субботам и говорил правду во все остальные дни недели. Они высказали следующие утверждения:

Лев - Вчера был один из дней, когда я лгу.

Единорог - Вчера был один из дней, когда я тоже лгу.

Из этих двух высказываний Алиса сумела вывести, какой день недели был вчера. Что это был за день? Ответ поясните.

среда. В среду Лев говорит ~~правду~~ (значит сейчас чт, а в этот день Лев говорит ~~ложь~~ и единорог ~~правда~~).

**10. Ознакомьтесь с инфографикой и приведёнными на основании полученной из неё информации утверждениями. Обведите правильные утверждения. Максимальный балл за задание – 10.**

Выберите все верные утверждения, которые можно сделать на основании приведённых данных.

А) Для россиян нет разницы между консультацией врача по телефону и через интернет.

Б) 8 % опрошенных пользовались услугами телемедицины.

+ В) Телефон – более популярный канал телемедицины, чем Интернет.

+ Г) Около половины россиян готовы обратиться за медицинской помощью через интернет.

+ Д) Причиной принципиального отказа от услуг телемедицины в трети случаев выступает убежденность в необходимости непосредственного осмотра пациента врачом.

+ Е) Четверть россиян, готовых к получению телемедицинских услуг, склонны обратиться за дистанционной консультацией в случае, если заметили у себя симптомы заболевания.

+ Ж) Доверие россиян, готовых к телемедицине, к телефонным консультациям несколько выше, чем к консультациям через интернет.

~~З) В эпоху пандемии доверие к телемедицине повысилось.~~

~~И) Подавляющее большинство россиян, знающих о существовании телемедицины, имеют сформированную позицию по вопросу приемлемости телемедицинских услуг.~~

~~К) Россияне в большей степени склонны доверять телемедицинским консультациям, которые оказывают государственные учреждения здравоохранения, а не частные.~~

пн вс ср

чт пт суб вс

правда

ложь ед

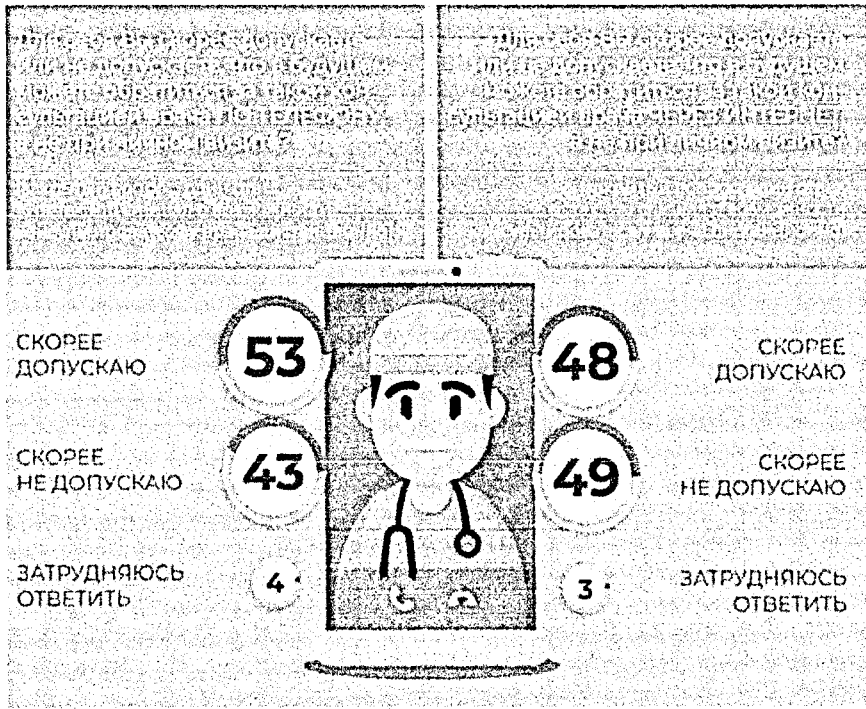

чт пт суб

пн, вс ср. вс  
правда

85

# ТЕЛЕМЕДИЦИНА В РОССИИ: СЕГОДНЯ И ЗАВТРА

БОЛЕЕ ПОЛОВИНЫ РОССИЯНИ ИНФОРМИРОВАНЫ О ТЕЛЕМЕДИЦИНЕ -  
ВОЗМОЖНОСТИ ПОЛУЧИТЬ КОНСУЛЬТАЦИЮ ВРАЧА ПО ТЕЛЕФОНУ  
ИЛИ ПО ИНТЕРНЕТУ (ПО 62% СООТВЕТСТВЕННО)



В какой ситуации вы бы скорее обратились  
в поликлинику к врачу дистанционно (по телефону  
или через Интернет), а не при личном визите?



ПРИ ПРИЗНАКАХ БОЛЕЗНИ

25 ■■■■■■

ЕСЛИ СОВСЕМ ПЛОХО

10 ■■

ЕСЛИ НИЧЕГО СЕРЬЕЗНОГО

10 ■■

В каких ситуациях вы бы скорее обратились в поликлинику к врачу лично, а не дистанционно (по телефону или через Интернет)?

ЛИЧНЫЙ ОСМОТР ОБЯЗАТЕЛЕН


33 ■■■■■■■■

СОМНЕНИЕ В КАЧЕСТВЕ

13 ■■■

НЕТ НЕОБХОДИМОСТИ

10 ■■



Всероссийская олимпиада школьников 2022-2023 учебный год  
Школьный этап. Обществознание, 8 класс, задания  
Время выполнения 60 мин. Максимальное кол-во баллов – 100

585

**Задание 1. Выберите все правильные ответы. Ответ запишите в таблицу.**  
Максимальное количество баллов – 8.

**1.1. Как называют правила принятые в обществе?**

а) социальные стандарты б) социальные права в) социальные законы г) социальные нормы

**1.2. Кто выполняет контроль за соблюдением прав ребенка в России?**

а) Уполномоченный по правам ребенка б) Директор школы  
в) Министр образования и науки РФ г) Президент РФ

**1.3. На сегодняшний день наиболее распространенной является классификация, согласно которой все политические режимы делятся на:**

а) тоталитарные б) авторитарные в) демократические г) все варианты верны

**1.4. Согласно современным представлениям человек является существом:**

а) биологическим ; б) биосоциальным ; в) социальным; г) духовным.

1.1	1.2	1.3	1.4
г	а	в —	б

**Задание 2. Укажите, какой из элементов является лишним. Ответ поясните. По 2 балла за каждое правильное понятие и 2 балла за пояснение, максимум – 16 баллов**

1. Парламент, налоги, территория, публичная власть

Управление

0

2. Постановление Правительства России, закон Республики Татарстан (Татарстан), указ Президента России, федеральный закон.

Копии права

0

3. Область, край, город федерального значения, федеральный округ, автономный округ

Субъекты

0

4. Труд, земля, налоги, предпринимательские способности, капитал

Торговля, экономические отношения в обществе

**Задание 3. «Да» или «нет»? Если вы согласны с тем, что данное утверждение верно, напишите «да», если считаете, что утверждение ошибочно, напишите «нет». Внесите свои ответы в таблицу. По 2 балла за каждую верную позицию, всего — 10 баллов.**

1. Суверенитет государства подразделяется на внешний и внутренний.

2. Выдача одним государством негражданина этого государства другому государству для осуществления правосудия называется экстрадицией.

3. В Российской Федерации законодательно запрещён полигамный брак.

4. Основное условие существования социальной группы – единство географического пространства, на котором проживают её члены.

5. В России установлена прогрессивная шкала ставки налога на доходы физических лиц.

1	2	3	4	5
да +	да +	да +	нет +	да —

**Задание 4. Соотнесите признаки, присущие обществу, с той степенью его развития, которой они соответствуют. 10 баллов**

Признак	Ступени развития общества
А) классовая социальная стратификация	1) традиционное
Б) преобладание сельскохозяйственного производства	2) индустриальное
В) основной фактор производства – научно-технический прогресс	3) информационное
Г) преобладание сферы услуг в экономике	
Д) завершение промышленного переворота	

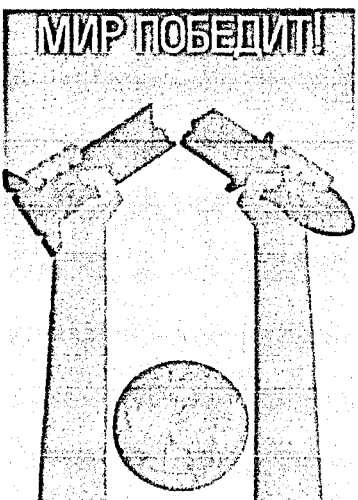


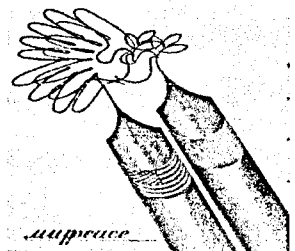
Ответы

А	Б	В	Г	Д
2 ✓	1 ✓	3 ✓	3 ✓	2 ✓

Задание 5. Прочитайте высказывания известных людей. В каждом случае несколько высказываний посвящены одному обществоведческому понятию. В разных высказываниях может меняться форма слова, обозначающего это понятие, или часть речи. Определите понятие и заполните пропуски. По 2 балла за каждую верную позицию. Всего 8 баллов.

- 1) Время – это ткань, из которой соткана жизнь. (Б. Франклин)  
Работники – хорошие слуги, но плохие хозяева. (Ф. Бэкон)
- 2) Государство – это я. (Людовик XIV)  
Государство – есть сочетание права и власти. (Б. Вышеславцев)

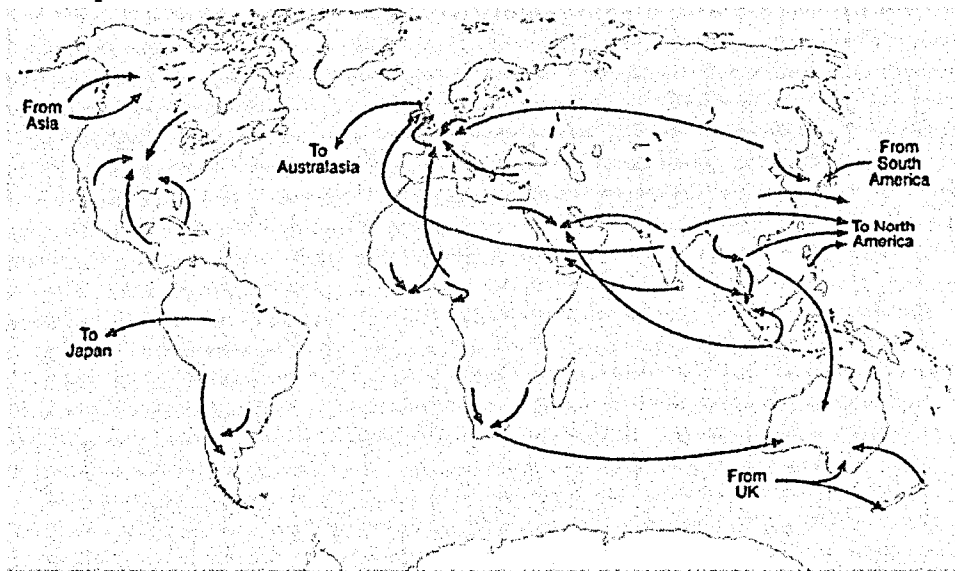
Задание 6. Рассмотрите предложенные иллюстрации. Классифицируйте их, разделив на три группы. Дайте пояснения вашей классификации. Максимальный балл за задание – 12 баллов

 <p>1.</p>	 <p>2.</p>
 <p>3.</p>	 <p>4.</p>



Группа 1	Группа 2	Группа 3
1, 4	2, 3	5, 6
Обоснование: Условно-ознакомительные материалы, еще предстоит подработать	Обоснование: Условно-ознакомительные материалы, еще предстоит	Обоснование: Условно-ознакомительные материалы, инструкция

Задание 7. На карте изображен социальный процесс, характерный для современного мира. Назовите его, перечислите причины (3-4), которые способствуют его развитию в современном мире. 11 баллов



Ответ: Процесс перенаселения - миграция

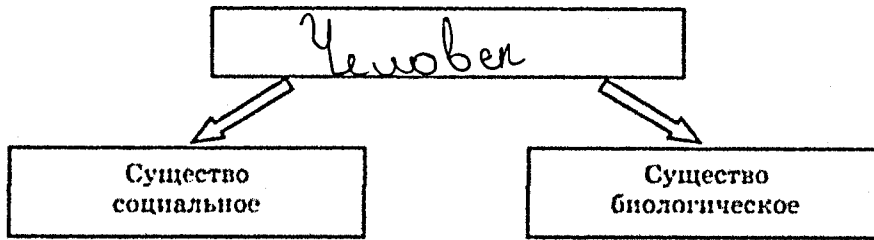
Причины:

- 1) Поиск лучшего места жительства
- 2) Поиск благоприятных климатических условий
- 3) Семейные узы
- 4) Экономическая стабильность
- 5) Миграция
- 6) Стихийные бедствия

Задание 8. Впишите недостающее слово в схему. Общее количество баллов - 5.



58



**Задание 9. Решите логическую задачу. Всего 10 баллов.**

Алиса, Лев и Единорог

Однажды Алиса повстречала Льва и Единорога, отдыхавших под деревом. Странные это были существа. Лев лгал по понедельникам, вторникам и средам и говорил правду во все остальные дни недели. Единорог же вел себя иначе: он лгал по четвергам, пятницам и субботам и говорил правду во все остальные дни недели. Они высказали следующие утверждения:

Лев - Вчера был один из дней, когда я лгу.

Единорог - Вчера был один из дней, когда я тоже лгу.

Из этих двух высказываний Алиса сумела вывести, какой день недели был вчера. Что это был за день? Ответ поясните.

**10. Ознакомьтесь с инфографикой и приведёнными на основании полученной из неё информации утверждениями. Обведите правильные утверждения. Максимальный балл за задание – 10.**

Выберите все верные утверждения, которые можно сделать на основании приведённых данных.

- А) Для россиян нет разницы между консультацией врача по телефону и через интернет.
- Б) 8 % опрошенных пользовались услугами телемедицины.
- В) Телефон – более популярный канал телемедицины, чем Интернет.
- Г) Около половины россиян готовы обратиться за медицинской помощью через интернет.
- Д) Причиной принципиального отказа от услуг телемедицины в трети случаев выступает убежденность в необходимости непосредственного осмотра пациента врачом.
- Е) Четверть россиян, готовых к получению телемедицинских услуг, склонны обратиться за дистанционной консультацией в случае, если заметили у себя симптомы заболевания.
- Ж) Доверие россиян, готовых к телемедицине, к телефонным консультациям несколько выше, чем к консультациям через интернет.
- З) В эпоху пандемии доверие к телемедицине повысилось.
- И) Подавляющее большинство россиян, знающих о существовании телемедицины, имеют сформированную позицию по вопросу приемлемости телемедицинских услуг.
- К) Россияне в большей степени склонны доверять телемедицинским консультациям, которые оказывают государственные учреждения здравоохранения, а не частные.

65

Задание 9: Ответ - среда. Об

Ответ: Вчера была среда, сегодня четверг.

понед	втор	среда	четвер	пятниц	суббо	воскр
Лев	Лев	Лев	Единор	Единор	Единор	X


Лев - говорит правду так, как если бы сегодня среда, а в этот день он будет говорить правду, то получается он лгал в среду и это правда. Единорог лжет по четвергам, пятницам и субботам, а в среду он говорит правду, а в четверг Единорог лжет, у него был четверг, а в пятницу он лжет, а в субботу он говорит правду, а в воскресенье он лжет.

оплатится правдой для Единогорога, но Лев в воскресенье так же как и Единогор будет говорить правду, но в субботу Лев брат не может, поэтому


воскресенье не подходит так и остальные дни недели при мне среди

# ТЕЛЕМЕДИЦИНА В РОССИИ СЕГОДНЯ И ЗАВТРА


БОЛЕЕ ПОЛОВИНЫ РОССИЯНИНОВ ИНИЦИИРОВАННЫМИ ТЕЛЕМЕДИЦИННЫМИ ВОЗМОЖНОСТИ ПОЛУЧИТЬ КОНСУЛЬТАЦИЮ ВРАЧА ПО ТЕЛЕФОНУ ИЛИ ПО ИНТЕРНЕТУ (ПО 62% СООТВЕТСТВЕННО)



Согласно опросу, проведенному в России, большинство опрошенных (92%) не получало консультации врача по телефону или через интернет. Лишь 6% опрошенных получали консультации по телефону, а 2% — через интернет.



ВЫСОКАЯ ОБУВЕНИЕ В БОЛЬШОМ ОБЪЕМЕ ПИТАНИЯ  
 В КОМПАНИИ СОВСЕЛ ПЛОХО (ПО ПОВЕДЕНИЮ  
 ПИТАНИЯ) ПИТАНИЕ СЕРЬЕЗНОГО



ПРИ ПРИЗНАКАХ БОЛЕЗНИ  
**25** ■■■■■■

ЕСЛИ СОВСЕЛ ПЛОХО  
**10** ■■■

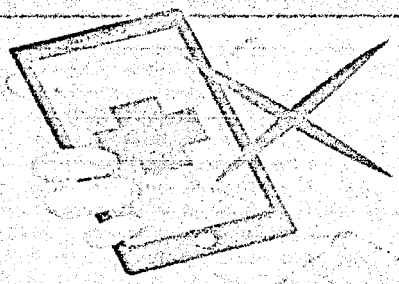
ЕСЛИ НИЧЕГО СЕРЬЕЗНОГО  
**10** ■■■

ПРИЗНАКИ БОЛЕЗНИ ПИТАНИЯ СЕРЬЕЗНОГО  
 ПИТАНИЕ СЕРЬЕЗНОГО ПИТАНИЕ СЕРЬЕЗНОГО  
 ПИТАНИЕ СЕРЬЕЗНОГО ПИТАНИЕ СЕРЬЕЗНОГО

ЛИЧНЫЙ ОСМОТР ОБЯЗАТЕЛЕН  
**33** ■■■■■■■■

СОМНЕНИЕ В КАЧЕСТВЕ  
**13** ■■■■

НЕТ НЕОБХОДИМОСТИ  
**10** ■■■



Всероссийская олимпиада школьников 2022-2023 учебный год

Школьный этап. История, 8 класс

Время выполнения 90 минут. Максимальное количество баллов – 100.

Бланк ответов

Задание № 1. Выберите один правильный ответ. За каждый правильный ответ – 1 балл, максимальное количество баллов за задание – 5 баллов.

35

1.1	1.2	1.3	1.4	1.5
1 —	3 +	2 +	2 +	2 —

Задание № 2. Выберите несколько правильных ответов. За каждый правильный ответ – 1 балл, максимальное количество баллов за задание – 15 баллов.

65

- 2.1 1, 5, 3 + —
- 2.2 3, 4, 6. — — +
- 2.3 2, 3. — —
- 2.4 5, 7. + +
- 2.5 4, 6. + +

Задание № 3. Восстановите хронологическую последовательность дат и событий. Запишите ответ в виде последовательности номеров в задании. За каждую правильную последовательность – 6 баллов, если верная последовательность восстанавливается путём перестановки любых двух, стоящих рядом, символов – 2 балла, максимальный балл за все задание – 12 баллов.

3.1

1	2	3	4	5	6
В —	Д —	Б —	Е —	А —	Г —

3.2 Расположите события в хронологической последовательности.

05

1	2	3	4	5	6
Г —	В —	Б —	Д —	А —	Е —

Задание № 4. Установите соответствие

4.1 Максимальное количество баллов за каждую верную позицию в задании – 1 балл. Максимальное количество баллов за все правильные позиции ответов – 10.

45

А	Б	В	Г	Д	Е	Ж	З	И	К
8 +	3 —	5 +	4 6 —	6 7 1 —	9 —	4 —	10 +	1 —	2 +

4.2 По 1 баллу за каждый правильный ответ (имя правителя). По 2 балла за правильное определение событий, 1 балл в случае 1 ошибки. Всего 9 баллов.

05

Князь			
Событие			

4.3. По 1 баллу за каждое верное соответствие. Максимальный балл -5.

15

А	Б	В	Г	Д
5 +				

Задание № 5. За каждый правильно заполненный пробел – 1 балл, максимальное количество баллов за задание – 10.

75

1	2	3	4	5	6	7	8	9	10
6	4	5 15	12	8	9	16	10	1	8
+	+	+	+	+	+	—	—	+	—

**Задние № 6. Работа с иллюстративными источниками и картой**

6.1. За каждый верный элемент ответа – 2 балла, максимальный балл за все задание – 16.

Буквенное обозначение архитектурных памятников	Название	Название княжества
А		
Б		
В		
Г	"Золотые ворота" 25	Рязань - Суздальское княжество.

25

6.2 Внимательно рассмотрите карту, выполните задания.

1	Суздаль 15
2	<del>Минин и Пожарский</del> Суздаль Рязань Суздальский.
3	Суздаль 15
4	Минин и Пожарский 25
5	

45

За каждый верный ответ 1 балл. Максимальное количество баллов – 6 баллов

6.3 По 2 балла за каждое верное имя. Максимальное количество баллов 8.

Буквенное обозначение изображения исторического деятеля	Имя исторического деятеля
А	
Б	
В	
Г	1) Суздальский. 2) Суздальский.

05

6.4 За правильную последовательность – 4 балла, если верная последовательность восстанавливается путём перестановки любых двух, стоящих рядом, символов – 2 балла

1	2	3	4
В	Б	А	Г

45

315



**Задние № 6. Работа с иллюстративными источниками и картой**

6.1. За каждый верный элемент ответа – 2 балла, максимальный балл за все задание – 16.

Буквенное обозначение архитектурных памятников	Название	Название княжества
А		
Б	Покров на Юриш	
В		
Г	Золотые ворота 25	Владимирское княжтво

25

6.2 Внимательно рассмотрите карту, выполните задания.

1	Появление Ижедмитрии I, Смуты 15
2	Борис Годунов 15
3	Смоленск 15
4	Минский и Пятарский 25
5	

55

За каждый верный ответ 1 балл. Максимальное количество баллов – 6 баллов

6.3 По 2 балла за каждое верное имя. Максимальное количество баллов 8.

Буквенное обозначение изображения исторического деятеля	Имя исторического деятеля
А	Василий Шуйский 2
Б	Ижедмитрии I 2
В	Борис Годунов 2
Г	Ижедмитрии II 2

85

6.4 За правильную последовательность – 4 балла, если верная последовательность восстанавливается путём перестановки любых двух, стоящих рядом, символов – 2 балла

1	2	3	4
В	Б	А	Г

45

405

Всероссийская олимпиада школьников 2022-2023 учебный год

Школьный этап. История, 8 класс

Время выполнения 90 минут. Максимальное количество баллов – 100.

Бланк ответов

Задание № 1. Выберите один правильный ответ. За каждый правильный ответ – 1 балл, максимальное количество баллов за задание – 5 баллов.

25

1.1	1.2	1.3	1.4	1.5
1 -	2 -	4 -	2 +	4 +

Задание № 2. Выберите несколько правильных ответов. За каждый правильный ответ – 1 балл, максимальное количество баллов за задание – 15 баллов.

75

2.1	2, 1 - +
2.2	3, 4, 6 - - +
2.3	1, 2, 3 + - -
2.4	5, 3, 4 + + +
2.5	1, 5, 6 - + -

Задание № 3. Восстановите хронологическую последовательность дат и событий. Запишите ответ в виде последовательности номеров в задании. За каждую правильную последовательность – 6 баллов, если верная последовательность восстанавливается путём перестановки любых двух, стоящих рядом, символов – 2 балла, максимальный балл за все задание – 12 баллов.

25

3.1

1	2	3	4	5	6
Б -	А -	Г -	В +	А	Е

3.2 Расположите события в хронологической последовательности.

1	2	3	4	5	6
А -	А -	В -	Е -	Б -	Г -

Задание № 4. Установите соответствие

4.1 Максимальное количество баллов за каждую верную позицию в задании – 1 балл. Максимальное количество баллов за все правильные позиции ответов – 10.

35

А	Б	В	Г	Д	Е	Ж	З	И	К
10 -	9 -	5 +	3 -	А -	1 +	4 -	4 -	8 -	2 +

4.2 По 1 баллу за каждый правильный ответ (имя правителя). По 2 балла за правильное определение событий, 1 балл в случае 1 ошибки. Всего 9 баллов.

25

Князь	Михаил Романов	Дроздов Мудрый	Князь Олег
Событие	1, 3	2, 6	4, 5

4.3. По 1 баллу за каждое верное соответствие. Максимальный балл - 5.

15

А	Б	В	Г	Д
6 -	4 -	1 -	3 +	5 -

Задание № 5. За каждый правильно заполненный пробел – 1 балл, максимальное количество баллов за задание – 10.

58

1	2	3	4	5	6	7	8	9	10
6	4	5	12	8	3	14	15	6	1
+	+	-	+	+	+	-	-	-	-



**Задние № 6. Работа с иллюстративными источниками и картой**

6.1. За каждый верный элемент ответа – 2 балла, максимальный балл за все задание – 16.

Буквенное обозначение архитектурных памятников	Название	Название княжества
А	Владимирский собор	Киевское
Б	Покрова <sup>церковь</sup> на Нерли	Рязанское княжество
В	Благовещенский <sup>собор</sup>	Московское
Г	Золотые ворота	Владимиро-суздальское

25

6.2 Внимательно рассмотрите карту, выполните задания.

1	Смутное время 17
2	Василий Шуйский
3	Новгород
4	Александр Невский
5	Коломна

5

За каждый верный ответ 1 балл. Максимальное количество баллов – 6 баллов

6.3 По 2 балла за каждое верное имя. Максимальное количество баллов 8.

Буквенное обозначение изображения исторического деятеля	Имя исторического деятеля
А	Василий Шуйский 2
Б	Александр Невский 2
В	Борис Годунов 2
Г	Александр Невский II 2

88

6.4 За правильную последовательность – 4 балла, если верная последовательность восстанавливается путём перестановки любых двух, стоящих рядом, символов – 2 балла

1	2	3	4
В	Б	А	Г

85